


## Numărul și Cifra

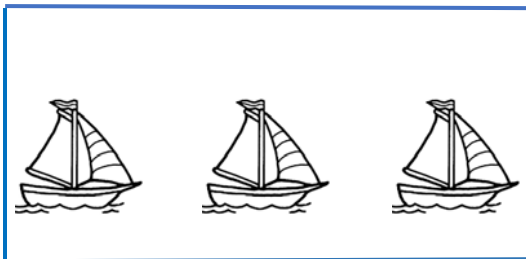


1. În desen avem o floare cu zece petale. De fiecare dată când învățați o cifră nouă, veți desena petalele care corespund cifrei și numărului respectiv. Câte petale veți desena? Desenați cu portocaliu cifra trei.

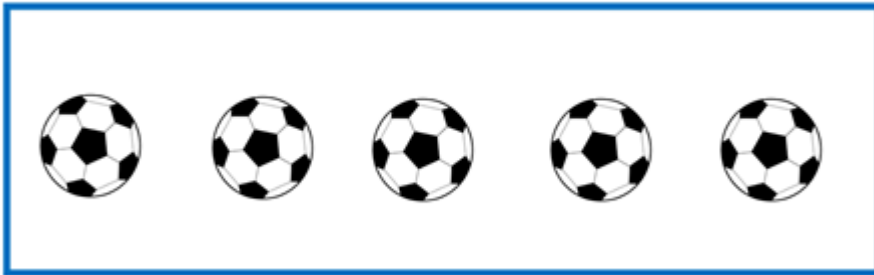


3

2. Trasează în chenarul din dreapta, tot atâtea liniuțe verticale câte elemente sunt în mulțimea de mai jos.



3. Formează mulțimi cu trei elemente. Câte elemente (mingi) au rămas?



4. Scrieți cifra după modelul dat.

