



Numărul și Cifra



1. În desen avem o floare cu zece petale. De fiecare dată când învățați o cifră nouă, veți desena petalele care corespund cifrei și numărului respectiv. Câte petale veți desena? Desenați cu roșu cifra patru.




4

2. Trasează în chenarul din dreapta, tot atâtea liniuțe verticale câte elemente sunt în mulțimea de mai jos.



3. Formează mulțimi cu patru elemente. Câte elemente au rămas?



4. Scrieți cifra după modelul dat.

