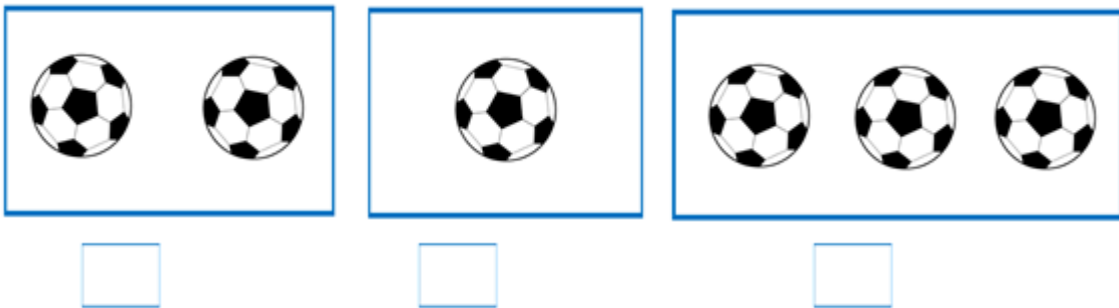


# Recapitulare

## Cifra 3



1. Scrie cifra corespunzătoare sub fiecare mulțime dată. Încercuieți mulțimea cu trei elemente.



2. Încercuiește baloanele și formează mulțimi cu trei elemente. Câte elemente au rămas?



3. Formează prima mulțime cu trei elemente și a doua mulțime cu un singur elemen.



4. Colorează cu portocaliu cifra trei.

1 2 3 1 6 7 9 1  
8 5 4 1 3 2 4 1  
6 7 5 8 1 4 2 9  
0 1 6 3 7 9 8 5

5. Recunoaște și încercuiește cifra trei de câte ori o găsiți în chenarul de mai jos.

1 2 3 1 6 7 9 1 8 5 4 1 3 2 4 1  
6 7 5 8 1 4 2 9 0 1 6 3 7 9 8 5  
0 9 2 3 1 7 5 4 8 0 6 3 4 7 9 2