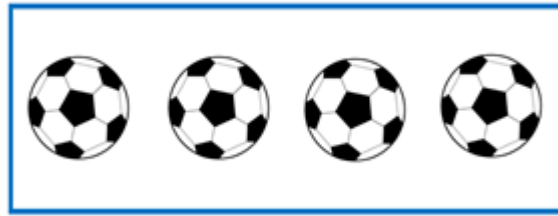
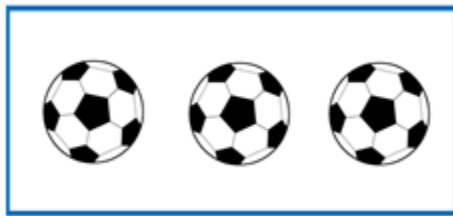


Recapitulare

Cifra 4


1. Scrie cifra corespunzătoare sub fiecare mulțime dată. Încercuieți mulțimea cu patru elemente.



2. Încercuiește baloanele și formează mulțimi cu patru elemente. Câte elemente au rămas?



3. Formează prima mulțime cu patru elemente și a doua mulțime cu trei elemente.



4. Colorează cu roșu cifra patru.

1 2 3 1 6 7 9 1
8 5 4 1 3 2 4 1
6 7 5 8 1 4 2 9
0 1 6 3 7 9 8 5

5. Recunoaște și încercuiește cifra patru de câte ori o găsiți în chenarul de mai jos.

1 2 3 1 6 7 9 1 8 5 4 1 3 2 4 1
6 7 5 8 1 4 2 9 0 1 6 3 7 9 8 5
0 9 2 3 1 7 5 4 8 0 6 3 4 7 9 2