


Recapitulare

Cifra 7



1. Scrie cifra corespunzătoare sub fiecare mulțime dată. Încercuieți cifra șapte.



2. Încercuiește baloanele și formează mulțimi cu șapte elemente. Câte elemente au rămas?



3. Formează prima mulțime cu șapte elemente și a doua mulțime cu două elemente. Care mulțime este mai mare? De ce?



4. Colorează cu albastru cifra șapte.

1 2 3 1 6 7 9 1
8 5 4 1 3 2 4 1
6 7 5 8 1 4 2 9
0 1 6 3 7 9 8 5

5. Recunoaște și încercuiește cifra șapte de câte ori o găsiți în chenarul de mai jos.

1 2 3 1 6 7 9 1 8 5 4 1 3 2 4 1
6 7 5 8 1 4 2 9 0 1 6 3 7 9 8 5
0 9 2 3 1 7 5 4 8 0 6 3 4 7 9 2