



# Recapitulare

## Cifra 8

1. Colorează cu roșu cifra 8.

6 5 8 7 4 9 2 1 3 8

2. Încercuiește mulțimea cu opt elemente și scrieți cifrele corespunzătoare mulțimilor:



3. Completează elementele mulțimilor de mai jos și încercuieți mulțimea cu opt elemente:



4



6



8

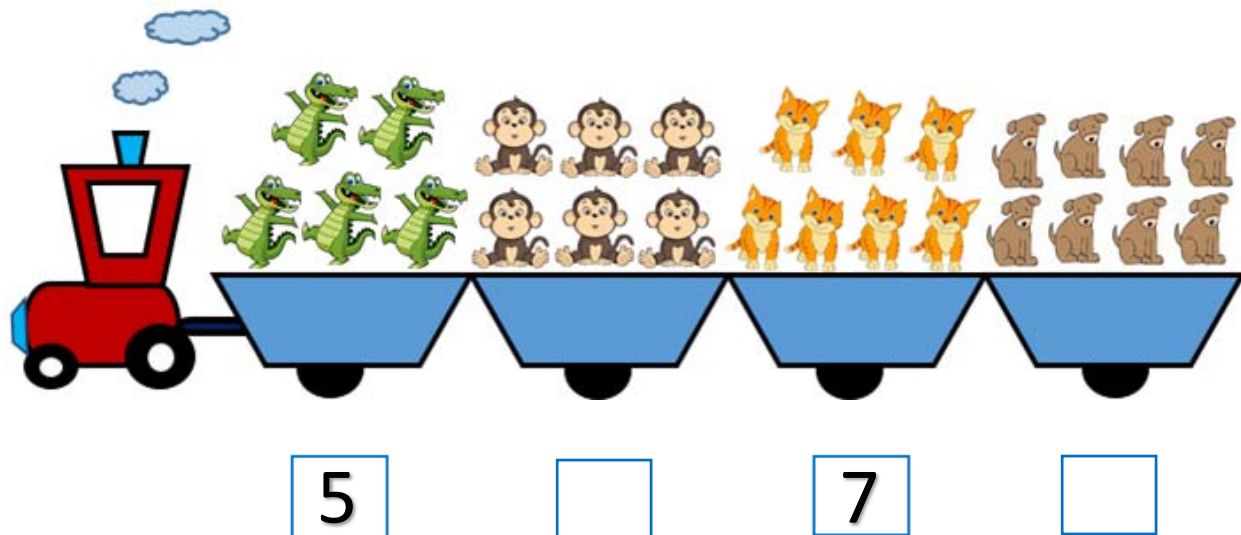


5

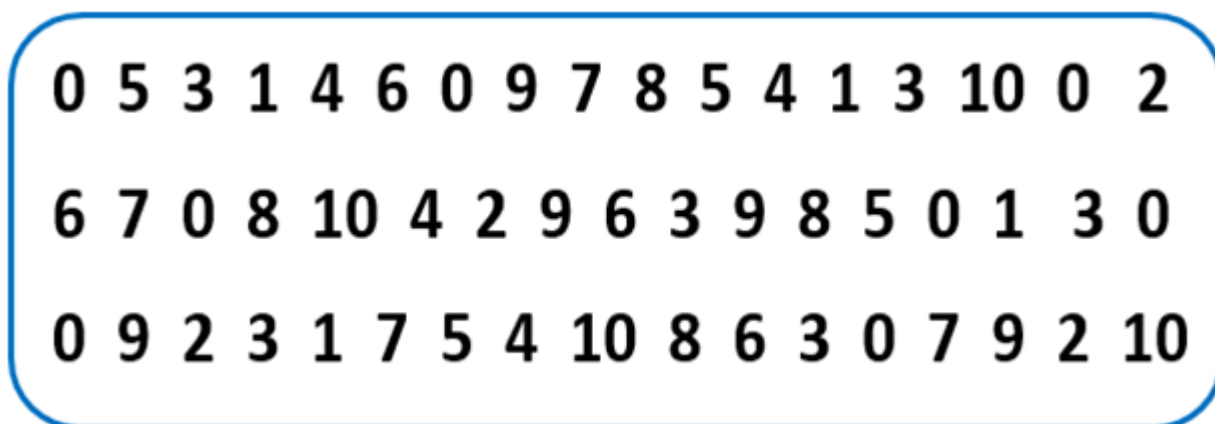


7

4. Aveți trenulețul cifrelor. Aflați și scrieți vecinii numerelor:



5. Recunoaște și încercuiește numărul și cifra opt de câte ori o găsești în chenarul de mai jos:



6. Scrieți cifra după modelul:

